

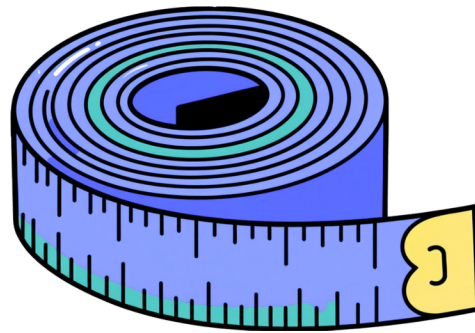
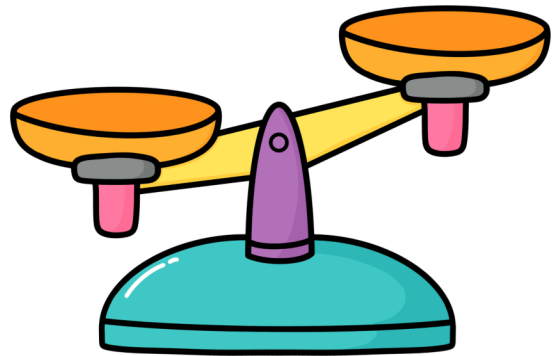
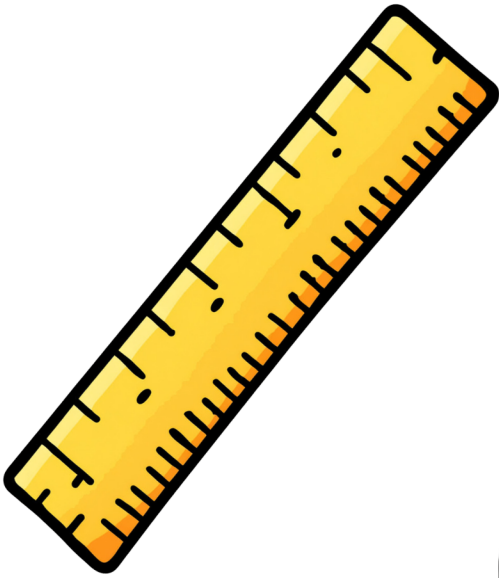


Måling



Måling

Forslag til arbejde:

Løs opgaverne i hæftet, enten alene eller i par. Det er en god ide at have linealer og små købmandsvægte klar.

Vilkår for brug:

Tak for dit download af materiale fra [Skolehjørnet.dk](https://www.skolehjørnet.dk). Kopiering af materialet må kun finde sted på institutioner/virksomheder, som har indgået aftale med Copydan Tekst & Node og kun inden for de rammer, der er nævnt i aftalen. Jeg bliver selvfølgelig ekstra glad, når du husker at indberette til [CopyDan](https://www.copydan.dk).

OPGAVE 1: HVOR HØJ/LANG ER...?

FØRST MÅLER I MED HÆNDER, DEREFTER LINEAL/MÅLEBÅND. NÅR I HAR MÅLT MED HÆNDER VIL I FÅ FORSKELLIGE RESULTATER. TAL OM HVORFOR DET MON KAN VÆRE OG DEREFTER HVORFOR VI HAR STANDARDISEREDE MÅLEREDSKABER.



..... 

..... cm



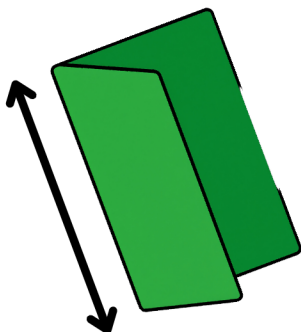
..... 

..... cm



..... 

..... cm



..... 

..... cm

Opgave 2: Jeg tror den måler....

Først skal I gætte, derefter bruge lineal/målebånd.



.....
..... cm

.....
..... cm



.....
..... cm

.....
..... cm



.....
..... cm

.....
..... cm

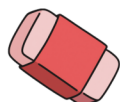


.....
..... cm

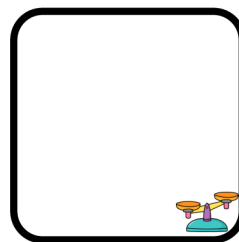

.....
..... cm

Opgave 3: Hvad vejer mest?

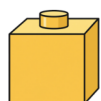


Først skal I gætte, derefter bruge vægten. Tegn/skriv både gæt og svar.





eller





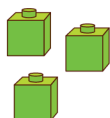
eller



eller

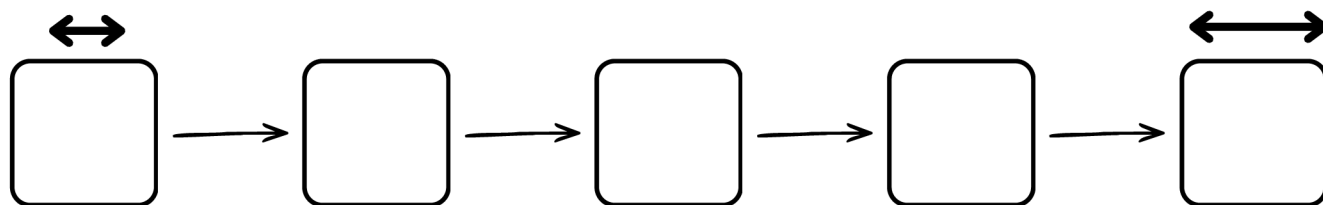


eller



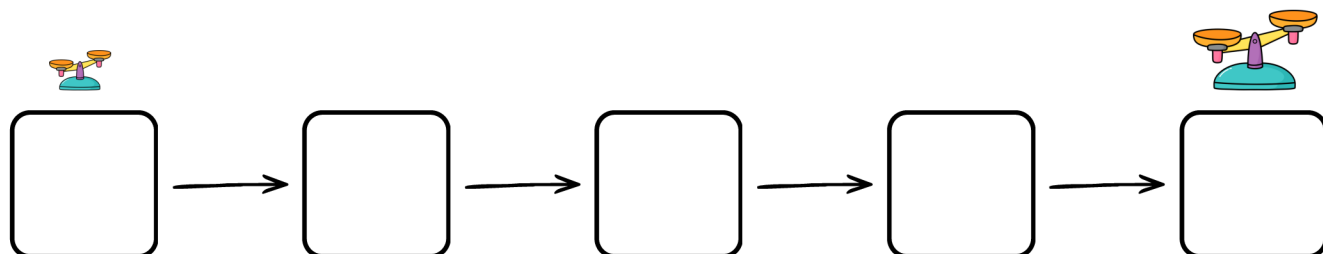
Opgave 4: Kortest og længst

Find 5 ting, læg dem i rækkefølge fra kortest og længst. Tegn rækkefølgen.




Opgave 5: Lettest og tungest

Find 5 ting, læg dem i rækkefølge fra lettest til tungest. Tegn rækkefølgen.



Opgave 6: Måledetektiv

Find ting i klassen med forskellige længder. Mål og tegn tingen.



Opgave 7: Sæt streger til tingenes længde



Opgave 7: Sæt streger til tingenes længde

